
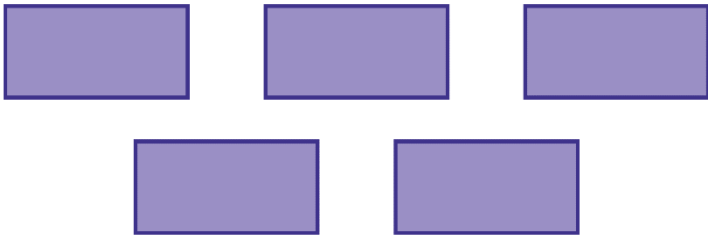


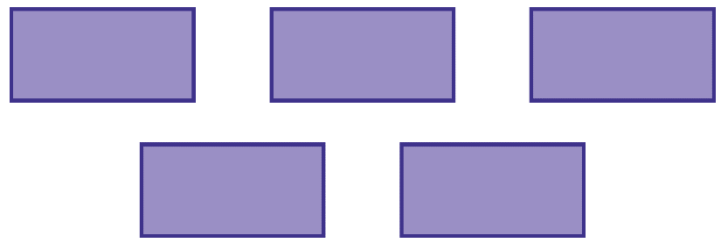
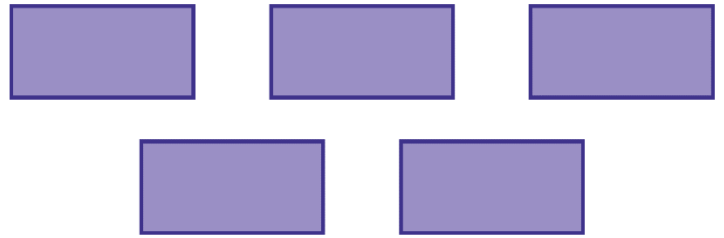
24 p. 26

Trouve deux façons de partager ces cinq surfaces en trois.
Écris tes solutions en chiffres.





24 p. 26

Trouve deux façons de partager ces cinq surfaces en trois.
Écris tes solutions en chiffres.



24 p. 26

Trouve deux façons de partager ces cinq surfaces en trois.
Écris tes solutions en chiffres.



24 p. 26

Trouve deux façons de partager ces cinq surfaces en trois.
Écris tes solutions en chiffres.

